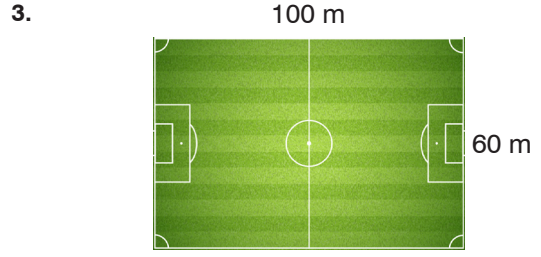


Yukarıdaki dikdörtgen şeklindeki buğday tarlasının alanı kaç m^2 'dir?

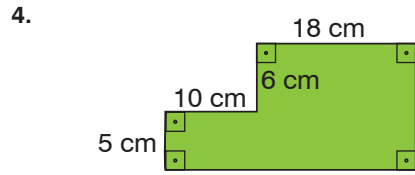


Yukarıda verilen daire planına göre;

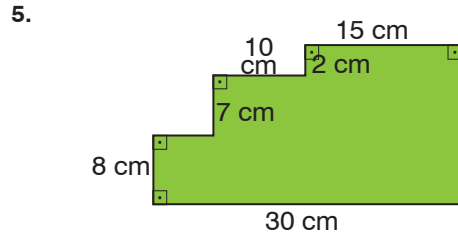
- Bu daire kaç m^2 'dir?
- Bu dairenin salonu kaç m^2 'dir?
- Bu dairenin çocuk odası kaç m^2 'dir?
- Bu dairenin yatak odası mutfağından kaç m^2 daha büyüktür?



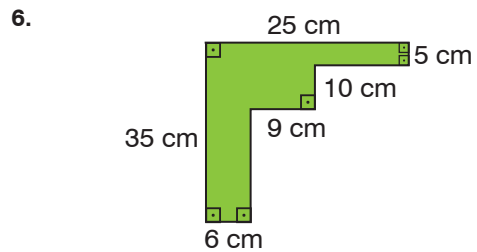
Yukarıdaki dikdörtgen şeklindeki futbol sahasının alanı kaç m^2 'dir?



Yukarıda verilen şeklin alanı kaç cm^2 'dir?

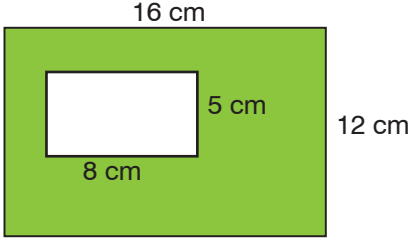


Yukarıda verilen şeklin alanı kaç cm^2 'dir?



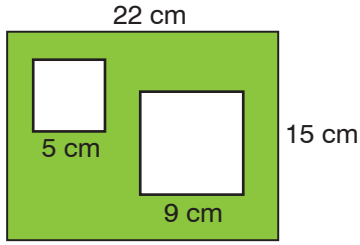
Yukarıda verilen şeklin alanı kaç cm^2 'dir?

7.



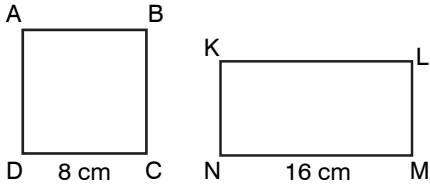
Yukarıdaki şekiller dikdörtgen olduğuna göre taralı alan kaç cm^2 'dir?

8.



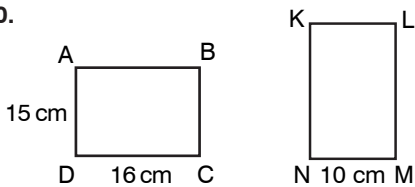
Yukarıdaki şekilde dikdörtgenle içindeki kareler arasında kalan kaç cm^2 'dir?

9.



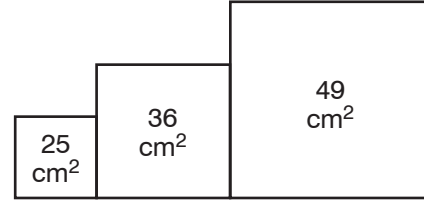
Yukarıdaki ABCD karesinin alanı ile KLMN dikdörtgeninin alanı birbirine eşittir. Buna göre $|LM|$ kaç cm 'dir?

10.



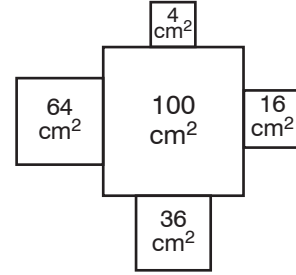
Yukarıdaki ABCD dikdörtgeninin alanı ile KLMN dikdörtgeninin alanı birbirine eşittir. Buna göre $|LM|$ kaç cm 'dir?

11.



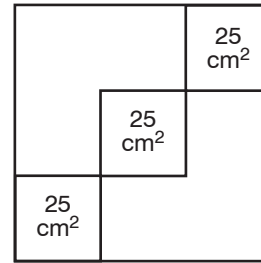
Yukarıdaki karelerden oluşmuş şeklin çevresi kaç cm 'dir?

12.



Yukarıdaki karelerden oluşmuş şeklin çevresi kaç cm 'dir?

13.



Yukarıdaki şekil bir tane büyük ve içindeki birbirine eş üç küçük kareden oluşmuştur. Buna göre büyük karenin çevresi kaç cm 'dir?