

1. 670 öğrencinin her biri en fazla 25 kişi alan minibuslerle geziye götürülecektir.
En az kaç minibus gerekir?

2. 120 L su 9 L lik kovalarla en az kaç seferde taşınır?

3. Her gün 70 soru çözen bir öğrenci 1450 soruluk bir kitabı en az kaç günde bitirir?

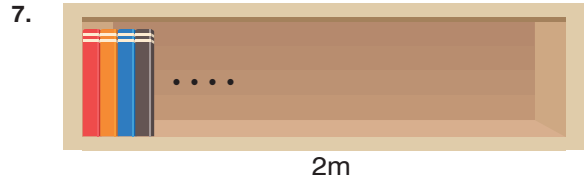


Yukarıdaki 4 özdeş kutunun toplam ağırlığı 2160g'dır. Kutuların her birinin boş ağırlığı 90 g gelmektedir.

Her bir kutuda 25 tane çikolata olduğuna göre bir adet çikolata kaç gramdır?

5. Tavan yüksekliği 6m olan bir depoya yüksekliği 35 cm olan kutulardan üst üste, tek sıra halinde en fazla kaç kutu sığar?

6. 50 kişilik bir sporcu kafilesi bir otelde konaklayacaktır. Bu oteldeki odalar en fazla 4 kişiliktir.
Buna göre bu kafilenin en az kaç odaya ihtiyacı vardır?



2m'lik bir rafa kalınlığı 7 cm olan kitaplardan en fazla kaç tane yerleştirilebilir?

8. Her gün aynı süre boyunca yürüyüş yapan Hayriye Hanım 8 günde 120 dk yürümüşür.
Hayriye Hanım günlük yürüyüş süresinin 8 dk artırırsa 18 günde toplam kaç dakika yürür?

9. Kırtasiyeci Tuğrul tanesi 27 TL ye aldığı kalemlerin tanesini 45 TL'den satıyor.
Tuğrul'un 1000 TL'den fazla kâr etmesi için en az kaç tane kalem satması gerekir?

10.

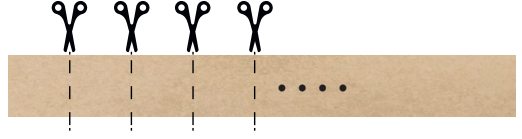


64 GB'lık bir flash diskin içerisine boyutu 128 MB olan resimlerden en fazla kaç tane sığar?
(1 GB = 1024 MB)

11. Vali Aydın Arslan Ortaokulu'nda 32 sınıf ve her sınıfta ortalama 35 öğrenci vardır.
Her öğrencinin de ortalama 5 kalemi olduğuna göre bu okuldaki öğrencilerin toplam kalem sayısı kaçtır?

12. 5 ton Meşhur Kargı Pirinci'ni en az kaç tane 25 kg'lık çuvalara paylaşabiliriz?

13.



Yukarıdaki mukavva eşit aralıklarla şekildeki gibi kesiliyor.
Kesim işlemi 10 dk sürmüştür ve 31 parça elde edilmiştir.

Buna göre,

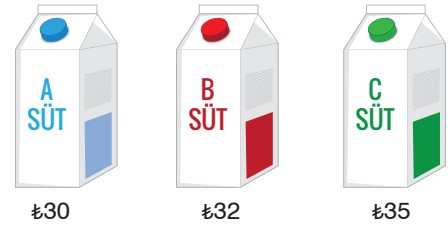
- Kaç kesim işlemi yapılmıştır?

- Bir kesim işlemi kaç sn. sürmüştür?

- Bir parçanın uzunluğu 25 cm ise mukavvanın kesilmeden önceki boyu kaç cm'dir?

matematiktek.com

14.



Eymen marketten 15 paket süt almıştır. Eymen en çok A marka, en az da C marka süt almıştır. (Eymen her markadan en az bir tane süt almıştır.)

Süt fiyatları yukarıdaki gibi olduğuna göre Eymen en az kaç TL ödemiştir?