

1.

509 320

Yukarıdaki doğal sayının okunuşunu yazınız.

2.

440 082

Yukarıdaki doğal sayının okunuşunu yazınız.

3.

30 406 007

Yukarıdaki doğal sayının okunuşunu yazınız.

4.

200 020 202

Yukarıdaki doğal sayının okunuşunu yazınız.

5.

770 051 001 003

Yukarıdaki doğal sayının okunuşunu yazınız.

6.

803 000 025 306

Yukarıdaki doğal sayının okunuşunu yazınız.

7. "On üç milyon beş bin dört yüz yedi " doğal sayısını rakamla yazınız.

8. "Dört yüz beş milyon altı yüz bin seksen" doğal sayısını rakamla yazınız.

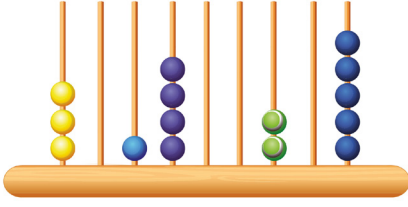
9. "Yedi yüz milyon yetmiş" doğal sayısını rakamla yazınız.

10. "Sekiz milyar bin yetmiş bir "doğal sayısını rakamla yazınız.

11. "On sekiz milyar elli milyon iki yüz bin altmış " doğal sayısını rakamla yazınız.

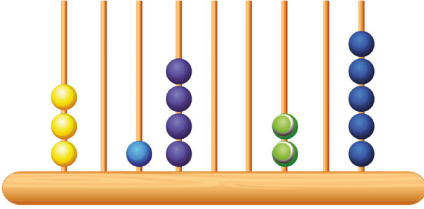
12. "Üç yüz seksen milyar altı yüz iki bin iki " doğal sayısını rakamla yazınız.

13.



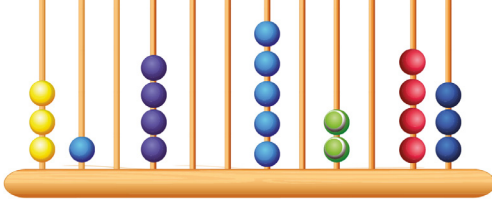
Yukarıdaki abaküste modellenen doğal sayıyı rakamla yazınız.

14.



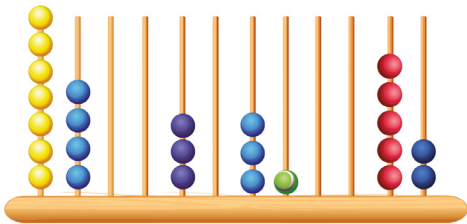
Yukarıdaki abaküste modellenen doğal sayıyı rakamla yazınız.

15.



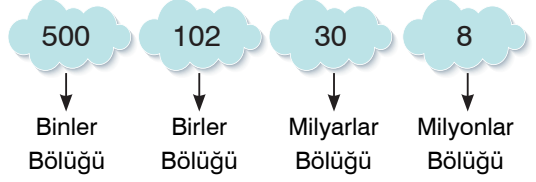
Yukarıdaki abaküste modellenen doğal sayıyı rakamla yazınız.

16.



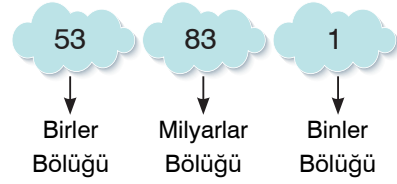
Yukarıdaki abaküste modellenen doğal sayıyı rakamla yazınız.

17.



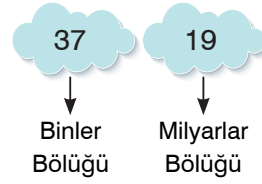
Yukarıda bölükleri verilen sayıyı rakamla yazınız.

18.



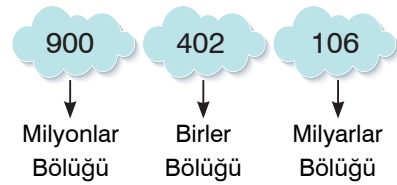
Yukarıda bölükleri verilen sayıyı rakamla yazınız.

19.



Yukarıda bölükleri verilen sayıyı rakamla yazınız.

20.



Yukarıda bölükleri verilen sayıyı rakamla yazınız.