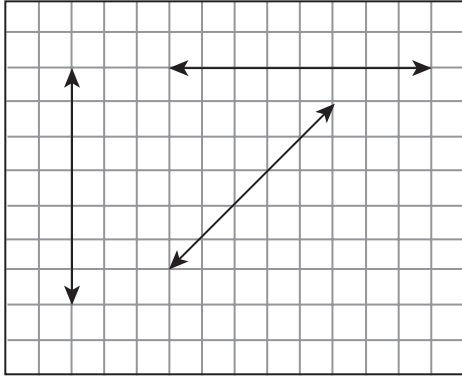


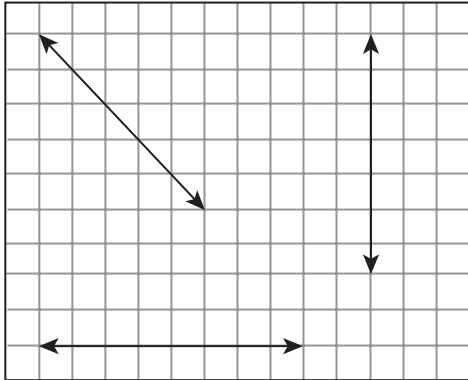
Yukarıdaki şekilde birbiriyle kesişen doğruları yazınız.

- a ile e ile
a ile e ile
a ile e ile
a ile

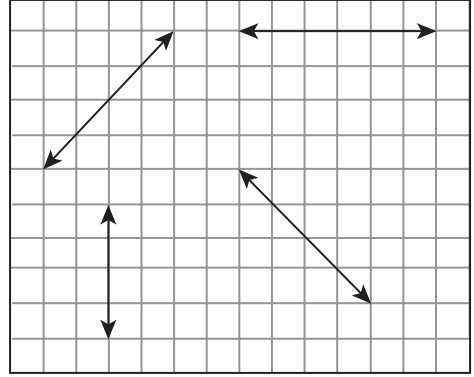
2. Aşağıdaki doğrulara çakışık doğrular çiziniz.



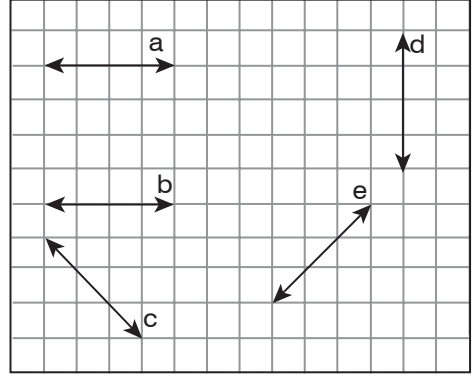
3. Aşağıdaki doğrulara dik doğrular çiziniz.



4. Aşağıdaki doğrulara paralel doğrular çiziniz.

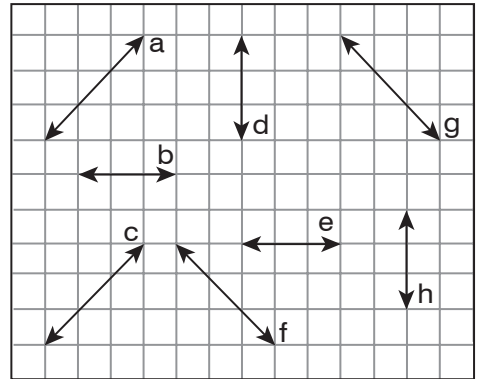


5. Aşağıdaki doğrulardan birbirlerine dik olanları bulup sembolle gösteriniz.



- a ⊥ b ⊥ c ⊥

6. Aşağıdaki doğrulardan birbirlerine paralel olanları bulup sembolle gösteriniz.



- a // b //
f // d //

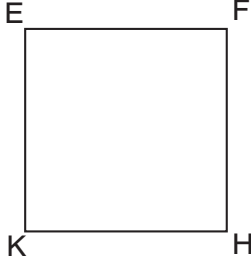
7.



Yukarıdaki dikdörtgende bulunan dik doğru parçalarını sembolle gösteriniz.

.....
.....
.....
.....

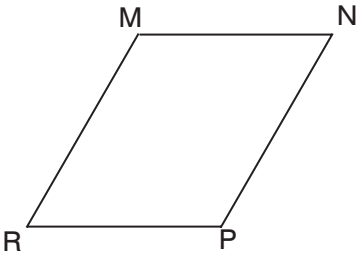
8.



Yukarıdaki karede bulunan paralel doğru parçalarını sembolle gösteriniz.

.....

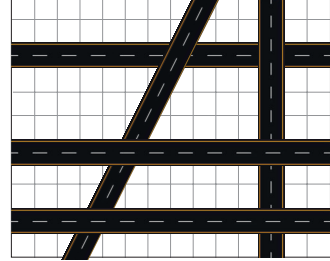
9.



Yukarıdaki paralelkenarda bulunan paralel doğru parçalarını sembolle gösteriniz.

.....

10.



5. Cadde 4. Cadde

1. sokak
2. sokak
3. sokak

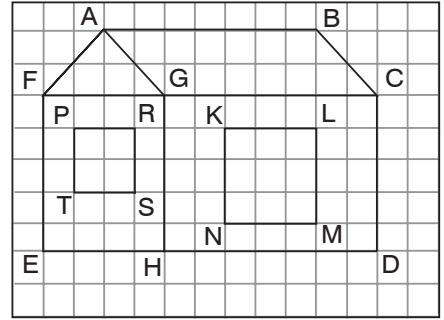
Yukarıdaki şekildeki cadde ve sokaklardan birbirlerine paralel olanları sembolle gösteriniz.

.....

Yukarıdaki şekildeki cadde ve sokaklardan birbirlerine dik olanları sembolle gösteriniz.

.....

11.



Yukarıdaki şekle göre aşağıdaki boşlukları “//” ve “⊥” sembollerinden uygun olanı ile doldurunuz.

[AB] ___ [GC] [GH] ___ [ED]
[KL] ___ [LM] [NM] ___ [KN]
[EH] ___ [PR] [PR] ___ [TS]
[HD] ___ [KL] [AB] ___ [ED]
[GC] ___ [CD] [TS] ___ [TP]