






1.   
Yukarıdaki şeklin ismini yazınız.

2.   
Yukarıdaki şeklin ismini yazınız.

3.   
Yukarıdaki şeklin ismini yazıp sembolle gösteriniz.

4.   
Yukarıdaki şeklin ismini yazıp sembolle gösteriniz.

5.   
Yukarıdaki şeklin ismini yazıp sembolle gösteriniz.

6.   
Yukarıdaki şeklin ismini yazıp sembolle gösteriniz.

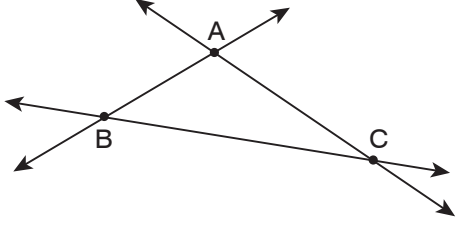
7. "E noktası" nı çiziniz.

8. "AC doğru parçasını" nı çiziniz.

9. "CD doğrusu" nu çiziniz.

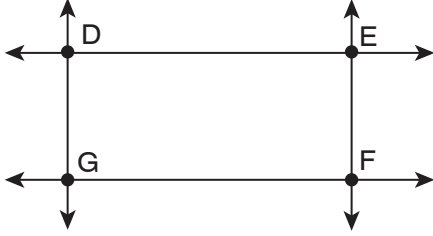
10. "EF ışını" nı çiziniz.

11.




Yukarıdaki şekilde bulunan doğruyu sembolle gösteriniz.

12.



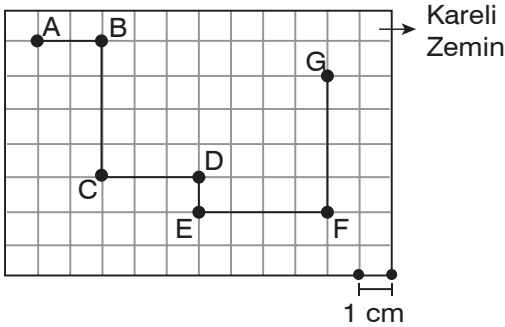
Yukarıdaki şekilde bulunan ışınları sembolle gösteriniz.

13.



Yukarıdaki şekilde bulunan doğru parçalarını sembolle gösteriniz.

14.



Yukarıdaki şekle göre istenilen doğru parçalarının uzunluklarını yazınız.

$$|AB| = \quad |CD| = \quad |FE| =$$

$$|BC| = \quad |ED| = \quad |GF| =$$

15. Aynı doğru üzerinde bulunan noktalara ne ad verilir?

16. Bir noktadan kaç doğru geçer, çizerek gösteriniz.

17. İki noktadan kaç doğru geçer, çizerek gösteriniz.

18. Doğrusal üç noktadan kaç doğru geçer, çizerek gösteriniz.

19. Doğrusal olmayan üç noktadan kaç doğru geçer, çizerek gösteriniz.